

# ☑ ВЕСЕЛЫЕ КАНИКУЛЫ

для  
любозна-  
тельных

Самостоятельные работы



Переходим во 2-й класс



ЭКСМО

# ВЕСЕЛЫЕ КАНИКУЛЫ

для  
любозна-  
тельных

---

Самостоятельные работы

---

Переходим во 2-й класс



МОСКВА 2014

УДК 373.167.1\*02  
ББК 74.202.5  
Б 39

**Безкоровайная, Елена Викторовна.**

Б 39 **Веселые каникулы : Переходим во 2-й класс / Е. В. Безкоровайная, Е. В. Берестова, И. С. Марченко. – Москва : Эксмо, 2014. – 96 с. – (Самостоятельные работы).**

Пособие поможет вашему ребенку с пользой провести летние каникулы. Выполняя занимательные задания, решая нестандартные задачи, разгадывая кроссворды, ребусы, ребенок будет не только развлекаться, но и развивать логическое мышление, фантазию, смекалку.

УДК 373.167.1\*02  
ББК 74.202.5

Издание для дополнительного образования  
қосымша білім алуға арналған баспа

*Для младшего школьного возраста  
мектеп жасындағы кіші балаларға арналған*

**САМОСТОЯТЕЛЬНЫЕ РАБОТЫ**

**Безкоровайная Елена Викторовна  
Берестова Елена Викторовна, Марченко Ирина Степановна**

**ВЕСЕЛЫЕ КАНИКУЛЫ: ПЕРЕХОДИМ ВО 2-Й КЛАСС**  
(орыс тілінде)

Ответственный редактор *А. Жилинская*. Ведущий редактор *Т. Судакова*  
Художественный редактор *Е. Брынчик*

В оформлении обложки использован рисунок *М. Герасимова*



ISBN 978-5-699-64114-7



ISBN 978-5-699-64114-7

ООО «Издательство «Эксмо»

123308, Москва, ул. Зорге, д. 1. Тел. 8 (495) 411-68-86, 8 (495) 956-39-21.

Home page: [www.eksmo.ru](http://www.eksmo.ru) E-mail: [info@eksmo.ru](mailto:info@eksmo.ru)

Өңіршілі: «ЭКСМО» АҚБ Баспасы, 123308, Мәскеу, Ресей, Зорге көшесі, 1 үй.  
Тел. 8 (495) 411-68-86, 8 (495) 956-39-21. Home page: [www.eksmo.ru](http://www.eksmo.ru) E-mail: [info@eksmo.ru](mailto:info@eksmo.ru).  
Тауар белгісі: «Эксмо» Қазақстан Республикасындағы дистрибутор және өнім бойынша арыс-талаптарды қабылдаушының өкілі «РДЦ» Алматы ЖШС, Алматы қ., Домбровский көш., 3-а, литер Б, офис 1.  
Тел.: 8 (727) 251 59 89, 30 91 92, факс: 8 (727) 251 58 12 эк. 107, E-mail: [RDC-Almaty@eksmo.kz](mailto:RDC-Almaty@eksmo.kz)  
Өнімнің қорғандық мерзімі шектелмеген.

Сертификация туралы ақпарат: [www.eksmo.ru/certification](http://www.eksmo.ru/certification)

Сведения о подтверждении соответствия издания согласно законодательству РФ о техническом регулировании можно получить по адресу: <http://eksmo.ru/certification/>  
Өндiрген мемлекет: Ресей. Сертификация қарастырылған

Подписано в печать 16.04.2014. Произведено 05.05.2014.

Формат 90x60<sup>1/32</sup>. Печать офсетная. Усл. печ. л. 3,0.

Тираж экз. Заказ

© Безкоровайная Е.В., Берестова Е.В., Марченко И.С., 2014  
© ООО «Издательство «Эксмо», 2014

Следуй за мной, дорогой второклассник!  
Каждый свой день преврати в светлый праздник.

Книжка-малышка не даст заскучать  
Тем, кто умеет читать и считать.  
В ней МОРЕ загадок и ГОРЫ затей,  
ЧАЩИ шифровок — открой же скорей!



# ЗАНИМАТЕЛЬНАЯ МАТЕМАТИКА

Реши примеры и прочитай предложение.

$4 + 7$	Л	$3 + 6$	У	$8 - 1$	С
---------	---	---------	---	---------	---

$10 - 4$	А	$8 - 5$	З	$11 + 1$	Е
----------	---	---------	---	----------	---

$5 + 3$	Т	$1 + 3$	Д	$10 + 3$	О
---------	---	---------	---	----------	---

$7 - 5$	В	$11 - 1$	Й	$9 - 4$	Р
---------	---	----------	---	---------	---

3	4	5	6	2	7	8	2	9	10

,

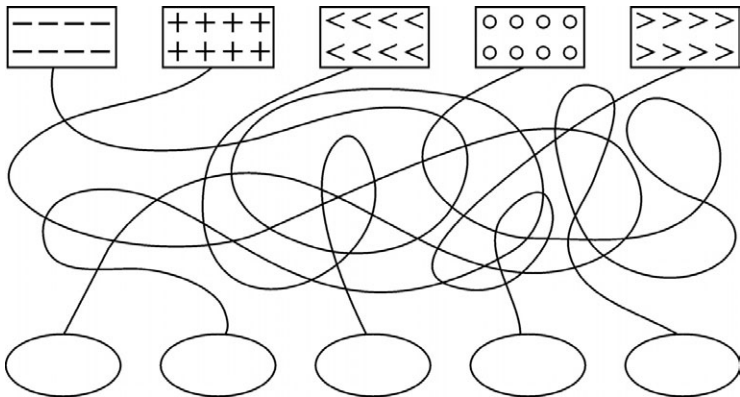
11	12	8	13

!



## ЛАБИРИНТ

Попробуй пройти по лабиринту. Устрой соревнования с родителями или друзьями.







## МИНУТКА КАЛЛИГРАФИИ

Аа

Вв

ви

ва

ов

У нас дружная семья.



## НАЙДИ ПАРУ

Найди одинаковые рисунки. Обозначь знаком «✓» отличия остальных рисунков.





## ЗАНИМАТЕЛЬНАЯ МАТЕМАТИКА

Закрась синим цветом квадраты А-1, А-2, А-3, А-4; жёлтым — В-1, В-2, В-3, В-4; зелёным — С-1, Д-1.

	1	2	3	4
А				
В				
С				
Д				

## ОТГАДАЙ ЗАГАДКУ

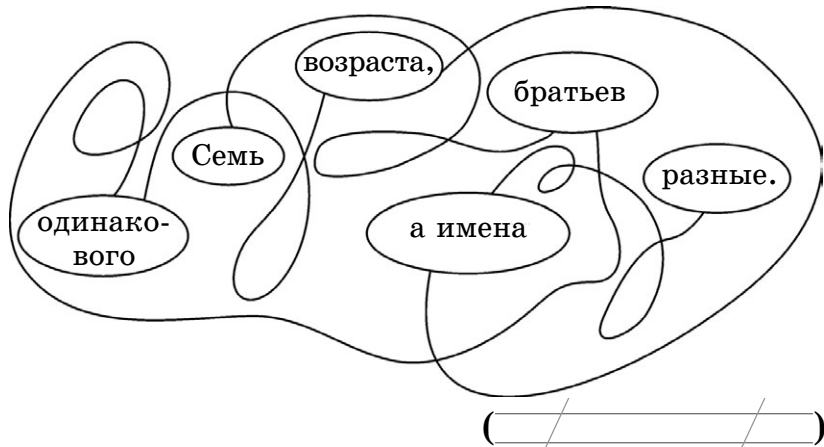
Солнце печёт.  
Липа цветёт.  
Пшеница поспевает.  
Когда это бывает?

( / / / / )



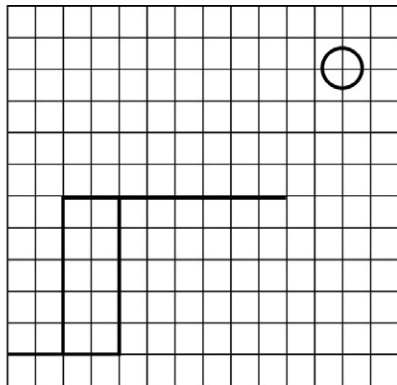

Запиши названия летних месяцев.


## ОТГАДАЙ ЗАГАДКУ



Назови последовательность дней недели.

# ДОРISУЙ ПО ОБРАЗЦУ



## «ПЁСТРЫЕ ОКОШКИ»

Размести рисунки в соответствующих «окошках».

Е					
Д					
С					
В					
А					
	1	2	3	4	5



— Е-5



— С-4



— Д-1



— В-2



— А-3

## ЗАНИМАТЕЛЬНАЯ СТРАНИЧКА

В путанице из букв русского и латинского алфавитов «спрятана» русская пословица. Найди и запиши её.

ДФНЈЕQLSDOF

RMWGARUGCSF

JTLQEDZPNJAI

WBRVOIRJINTG

RQNJCINJЯLSF

## ЗАНИМАТЕЛЬНАЯ МАТЕМАТИКА

На сколько фруктов меньше, чем овощей?



*Решение:*

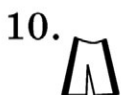
$$\square \quad \square = \square$$

*Ответ:* на  $\square$  меньше.

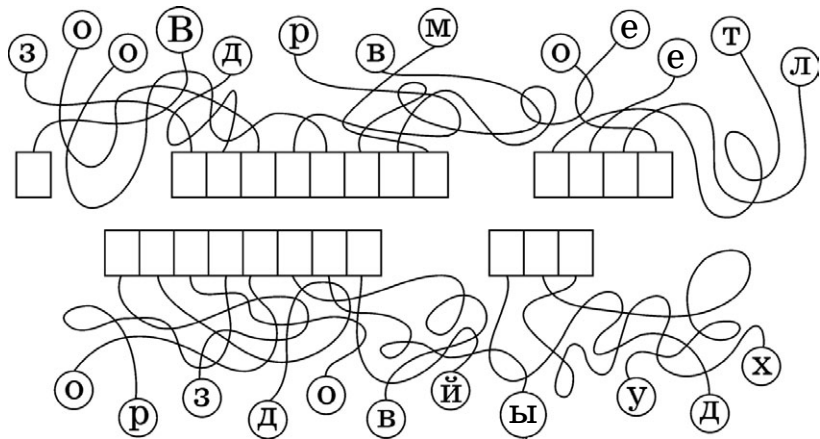


## «ФОТОСАЛОН»

В чём ещё не сфотографировался медвежонок? Обведи.



# РАСШИФРУЙ ВЫСКАЗЫВАНИЕ



## ВЫЧИСЛИ

Найди ошибки, исправь по образцу.

$$15 + 2 - 6 = \cancel{10} \quad \boxed{11}$$

$8 + 2 = 9 \quad \boxed{\phantom{00}}$

$7 - 7 = 1 \quad \boxed{\phantom{00}}$

$5 + 0 = 0 \quad \boxed{\phantom{00}}$

$10 - 7 = 3 \quad \boxed{\phantom{00}}$

$4 + 5 = 10 \quad \boxed{\phantom{00}}$

$10 - 4 + 2 = 4 \quad \boxed{\phantom{00}}$

$8 - 3 + 4 = 10 \quad \boxed{\phantom{00}}$

$5 + 2 - 6 = 0 \quad \boxed{\phantom{00}}$

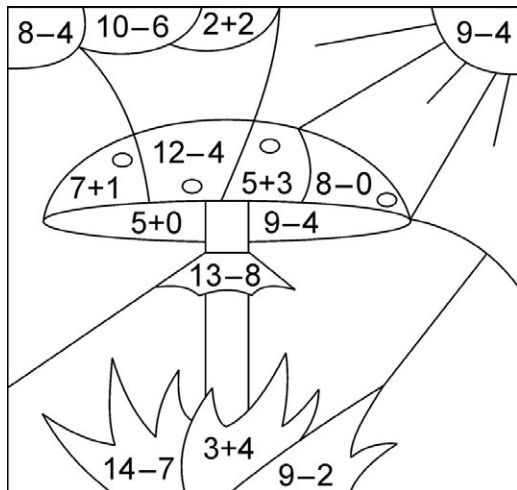
$8 + 1 - 7 = 2 \quad \boxed{\phantom{00}}$

$10 - 5 - 3 = 4 \quad \boxed{\phantom{00}}$

## ВЫЧИСЛИ И РАСКРАСЬ

Реши примеры и раскрась рисунок, используя обозначения:

- 5 — жёлтый
- 7 — зелёный
- 8 — красный
- 4 — голубой



## МИНУТКА КАЛЛИГРАФИИ

Лл

Яя

ам

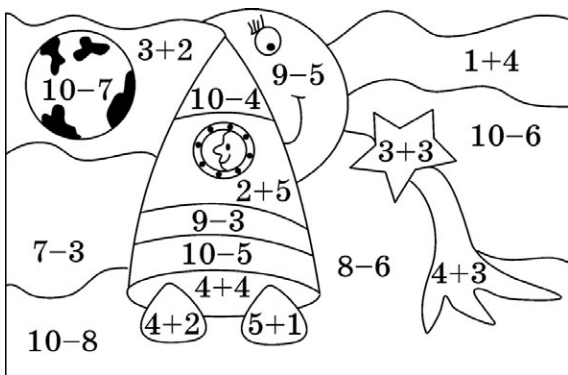
од

что

Что летом родит, то зимой не вредит.

## ВЫЧИСЛИ И РАСКРАСЬ

Реши примеры и раскрась рисунок, используя обозначения:



- 2 — фиолетовый
- 3 — зелёный
- 4 — жёлтый
- 5 — голубой
- 6 — оранжевый
- 7 — красный
- 8 — розовый

# ЧТЕНИЕ ПИРАМИДЫ

Хлеб

хлеб ушек

хлеб ец

хлеб ный

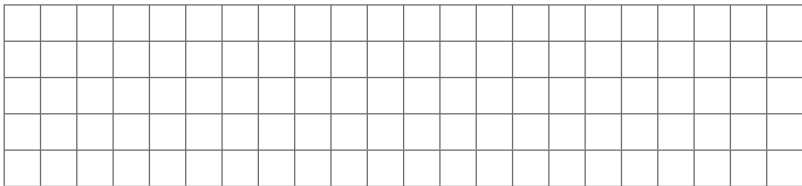
хлеб оробы

## МИНУТКА КАЛЛИГРАФИИ



## ЗАНИМАТЕЛЬНАЯ МАТЕМАТИКА

Начерти два отрезка: один длиной 5 см,  
а другой — на 3 см длиннее.



Замени: 1 дм = \_\_\_\_\_ см

1 дм 5 см = \_\_\_\_\_ см



## «ГРАМОТЕЙКА»

Найди слова с неправильным ударением.  
Прочитай слова правильно.

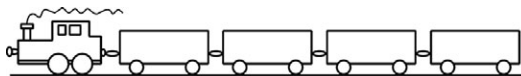
О́сень, укرا́инский, уви́деть, алфа́вит, ма-  
га́зин, лифты́, звони́т, небеса́, предме́т, зе-  
лень, о́лень, верба́.

Впиши в пустые клетки буквы, чтобы по-  
лучились слова.


В болоте		о	ч	к	а
В предложении		о	ч	к	а
У мамы		о	ч	к	а

## ЗАНИМАТЕЛЬНАЯ МАТЕМАТИКА

Поезд приехал на станцию.



На станции 3 вагона отцепили, а 4 прицепили. Сколько вагонов стало?  Дорисуй.



На следующей станции 5 вагонов отцепили, а 3 прицепили. Сколько вагонов отправилось дальше?  Дорисуй.



## ЗАНИМАТЕЛЬНАЯ СТРАНИЧКА

Переставь буквы и запиши имена сказочных героев.

Минальва

кялпокШа

ушколаЗ

оВдоняй

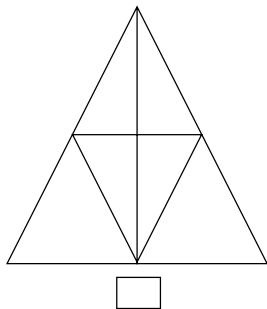
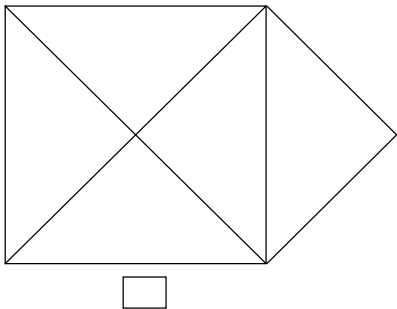
чмокайвДю

конбуГор


рубЧекаша

## ЗАНИМАТЕЛЬНАЯ МАТЕМАТИКА

Попробуй нарисовать фигуры, не отрывая карандаш от бумаги и не повторяя уже начерченные линии. Сколько треугольников на каждом рисунке?



# КРОССВОРД «ЗДОРОВЬЕ»

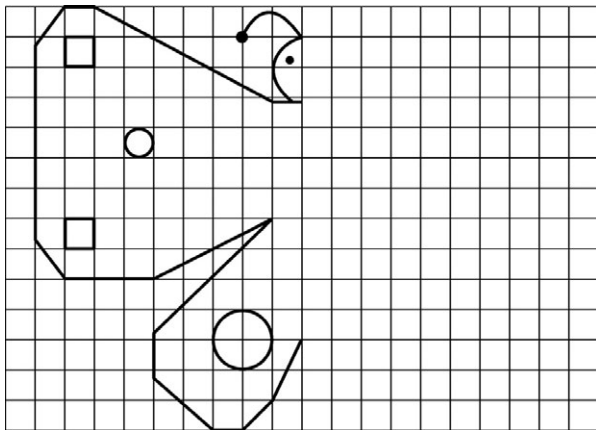




1. Физические упражнения утром.
2. Средство для обработки ран.
3. Ровное положение тела.
4. Распорядок дня.
5. Орган слуха человека.
6. Здоровый цвет кожи щёк.



# ДОРИСУЙ И РАСКРАСЬ



# ЗАНИМАТЕЛЬНАЯ МАТЕМАТИКА

8	5	4	9	6	7	1	2	3	10
---	---	---	---	---	---	---	---	---	----

+6

14									
----	--	--	--	--	--	--	--	--	--

Реши примеры.

$9 - 5 = \square$

$6 + 2 = \square$

$3 + 4 = \square$

$4 + 3 = \square$

$5 + 5 = \square$

$8 + 0 = \square$

$7 - 2 = \square$

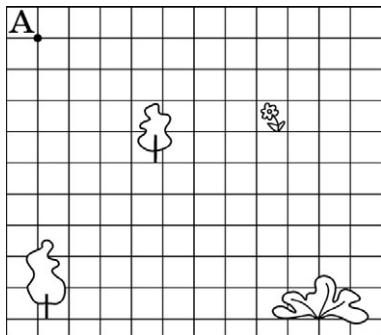
$9 - 0 = \square$

$7 - 7 = \square$



## ИГРА «ПУТЕШЕСТВИЕ»

Из города **А** Саша едет в гости к Ивану в город **В** такой дорогой: 3 вниз, 2 вправо, 5 вниз, 7 вправо, 6 вверх. Покажи на рисунке, как двигался Саша.





## МИНУТКА КАЛЛИГРАФИИ

ко

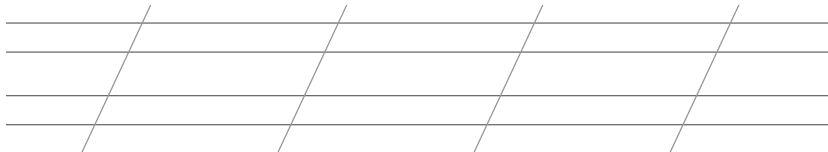
во

Хлеб — отец, вода — мать.




## «СОБЕРИ» ПОСЛОВИЦЫ

дел добрых для Жизнь дана.

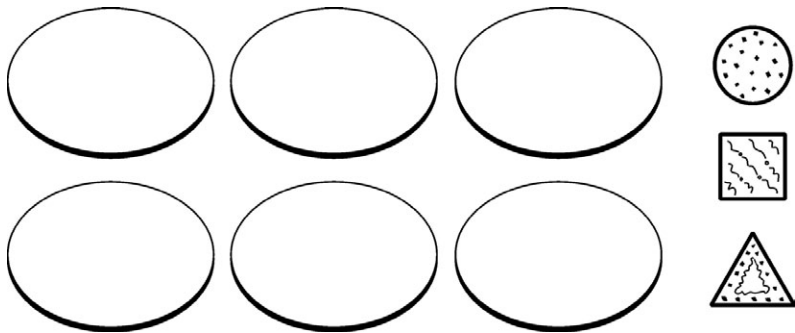


добрых без не свете людей На.



## «ПЕЧЕНЬЕ»

Мама испекла печенье трёх видов. Помоги маме по-разному разложить по 2 печенья на тарелки. (Подсказка: 6 способов.)



## «ЗИМНИЕ РАЗВЛЕЧЕНИЯ»

Игорь и Таня играют в снежки. Поиграй с ними и собери 7 «зимних» слов.





## ЗАГАДКИ

Отгадай загадки, запиши отгадки.

Сидит девица в темнице,  
а коса на улице.

( \_\_\_\_\_ )

Кто его раздевает,  
тот слёзы проливает.

( \_\_\_\_\_ )

Что это за голова, только зубы и борода?

( \_\_\_\_\_ )

# ЗАНИМАТЕЛЬНАЯ МАТЕМАТИКА

Составь и реши задачи.



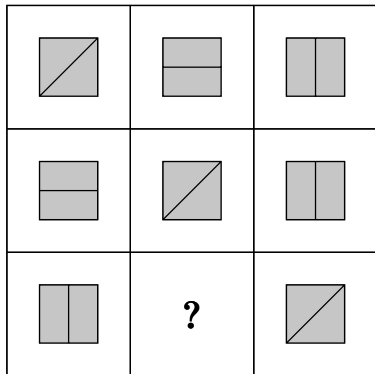
13 слив      ?, на  
4 сливы меньше

*Решение:*

$$\square - \square = \square$$

*Ответ:*  $\square$  слив.

Вставь недостающее.



# ЗАНИМАТЕЛЬНАЯ МАТЕМАТИКА

Закончи цепочку.

9	+5	+2	-7	-4	+10	+3	-9	=	<input type="text"/>
---	----	----	----	----	-----	----	----	---	----------------------

14	+4	-10	-5	+9	+1	+5	+2	-4	=	<input type="text"/>
----	----	-----	----	----	----	----	----	----	---	----------------------



## «СОБЕРИ» СЛОВО

Запиши слова и объясни их значение.

бoвь лю \_\_\_\_\_

та то чис \_\_\_\_\_

да ро при \_\_\_\_\_

cтьe cчa \_\_\_\_\_



## ТВОРЧЕСКАЯ РАБОТА

Составь предложения из слов каждого ряда  
и запиши их.

В, много, лесу, грибов, нашем.

\_\_\_\_\_ / \_\_\_\_\_ / \_\_\_\_\_ / \_\_\_\_\_  
\_\_\_\_\_ / \_\_\_\_\_ / \_\_\_\_\_ / \_\_\_\_\_

Цветы, маме, принёс, папа.

\_\_\_\_\_ / \_\_\_\_\_ / \_\_\_\_\_ / \_\_\_\_\_  
\_\_\_\_\_ / \_\_\_\_\_ / \_\_\_\_\_ / \_\_\_\_\_

ярко, светило, Днём, солнышко,

\_\_\_\_\_ / \_\_\_\_\_ / \_\_\_\_\_ / \_\_\_\_\_  
\_\_\_\_\_ / \_\_\_\_\_ / \_\_\_\_\_ / \_\_\_\_\_

# ЗАНИМАТЕЛЬНАЯ МАТЕМАТИКА

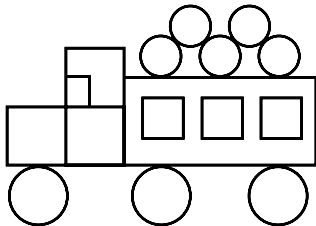
1) Составь и реши задачу.

Купили  больших и  маленьких мячей. Сколько всего купили мячей?

Решение:   =  (~~\_\_\_\_\_~~)

Ответ:  ~~\_\_\_\_\_~~

2) Реши и раскрась.



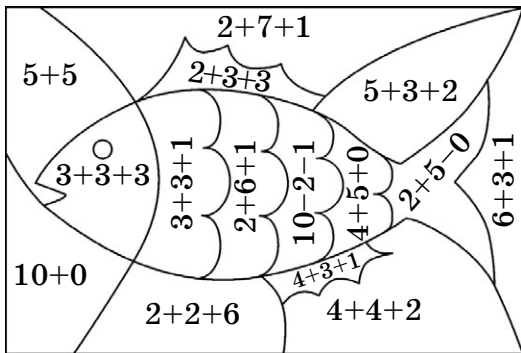
$$\left. \begin{array}{l} \bigcirc - \square \\ \square - \square \end{array} \right\} ?$$

Решение:   =

Ответ: .

## ЗАНИМАТЕЛЬНАЯ МАТЕМАТИКА


Реши и раскрась рисунок, используя следующие обозначения.





- 7 — зелёный
- 8 — жёлтый
- 9 — красный
- 10 — голубой

## ЗАНИМАТЕЛЬНАЯ МАТЕМАТИКА

Запиши длину предметов в см, переведи результат в дм.



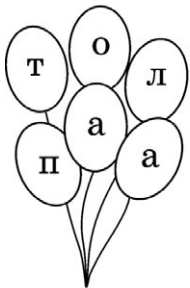
см =  дм  см




см =  дм  см

## «ВОЗДУШНЫЕ ШАРИКИ»


Сложи слова из букв на воздушных шариках.



--	--	--	--	--	--



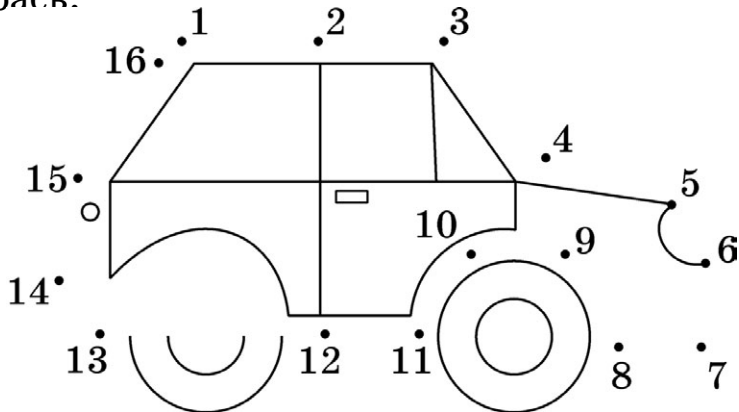
--	--	--	--	--	--



--	--	--	--	--	--

## «КОНСТРУКТОР»

Соедини числа в порядке увеличения. Раскрась.





## ЗАГАДКИ

Отгадай загадки, запиши отгадки.

Где упрётся хвостом,  
станет дырка потом.

\_\_\_\_\_  
\_\_\_\_\_  
/                      /

Не поедет  
                    без бензина

Наша быстрая  
\_\_\_\_\_  
\_\_\_\_\_.  
/                      /

Идут, идут,  
а всё тут да тут.

\_\_\_\_\_  
\_\_\_\_\_  
/                      /

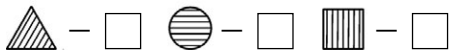
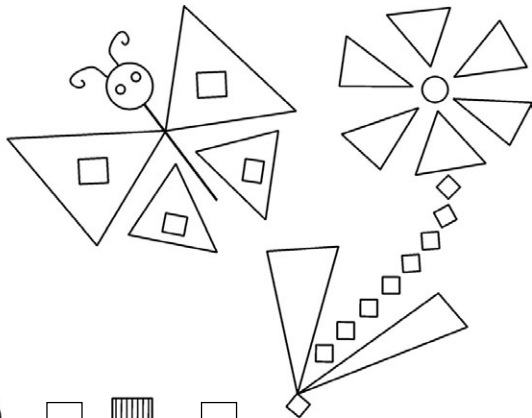
Собирают  
                    ребятишки  
в парке жёлуди

и \_\_\_\_\_.  
\_\_\_\_\_  
/                      /



# ЗАНИМАТЕЛЬНАЯ МАТЕМАТИКА

Найди на рисунке круги, прямоугольники, три  
Пос  
и з  
Заг  
все



## МИНУТКА КАЛЛИГРАФИИ

Жж

ажа

жу

еж

же

Человек, как дерево, без корней не может жить.

## РЕШИ И РАСКРАСЬ





15 — красный

13 — жёлтый

11 — зелёный

## ВРЕМЕНА ГОДА

Какие времена года изображены на рисунках? Запиши.



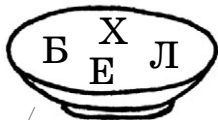

# РАСКРАСЬ РИСУНОК

Расскажи, что необходимо для здоровья.



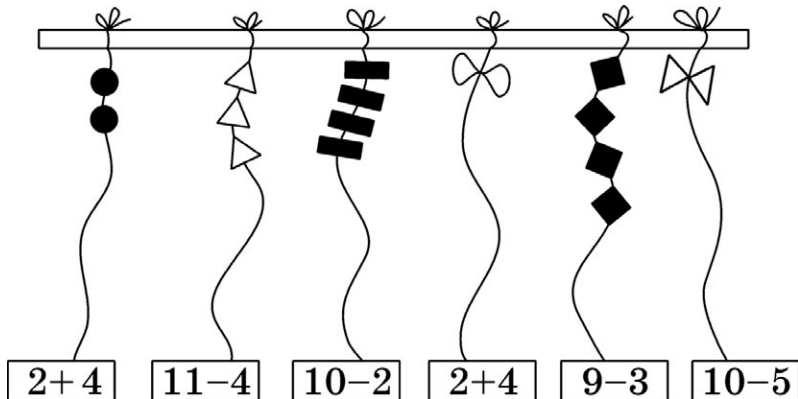
## «УЖИН»

Андрей сел ужинать. Переставь местами буквы и узнай, что лежит на каждой тарелке.



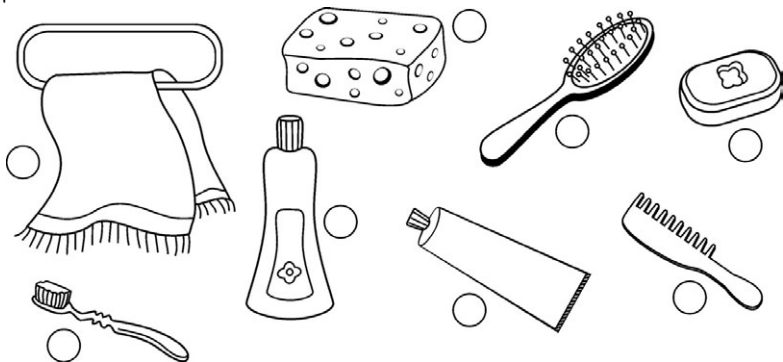
## «ГИРЛЯНДА»

Реши примеры. Дорисуй на каждой верёвочке соответствующее количество фигур.



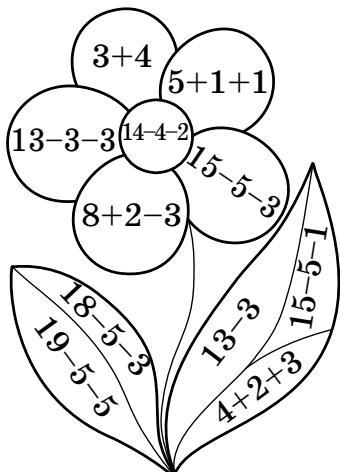
## РАСКРАСЬ

Закрась кружочки в зелёный цвет возле предметов, которые предназначены только для личного пользования.





## РЕШИ И РАСКРАСЬ



10 — светло-зелёный

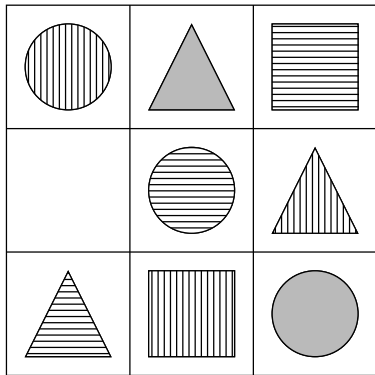
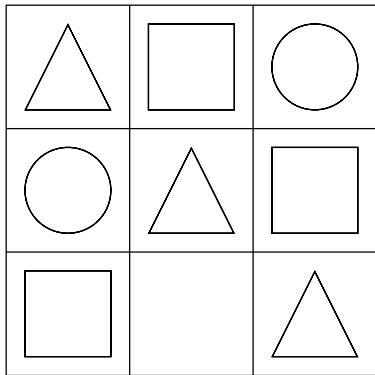
9 — тёмно-зелёный

8 — жёлтый

7 — красный

# ЗАНИМАТЕЛЬНАЯ МАТЕМАТИКА

Какие фигуры необходимо нарисовать в пустых клеточках? Нарисуй.



## «ТРИ ОСЫ»

На этой «осе» в октябре позолота.

о	с			а
---	---	--	--	---



Эта «оса» зимой и летом зелёная.

	о	с		а
--	---	---	--	---



С этой «осой» спит в колыбельке ребёнок.

	о	с		а
--	---	---	--	---



# ЗАНИМАТЕЛЬНАЯ МАТЕМАТИКА

Составь и реши задачу.



— 7



— ?, на 4  
меньше

} ?

Сколько самолётов?

*Решение:*

$$\square \square = \square$$

*Ответ:*  (  )

Сколько всего игрушек?

*Решение:*

$$\square \square = \square$$

*Ответ:*  (  )

## ЗАНИМАТЕЛЬНАЯ СТРАНИЧКА

Запиши, кому принадлежат эти волшебные вещи.

Золотое яичко

---

---

---

Разбитое корыто

---

---

---

Хрустальная  
туфелька

---

---

---

Зеркальце

---

---

---

Горшочек мёда

---

---

---

Золотой ключик


---

---

---

## «МОЗАИКА»

Раскрась рисунок, используя обозначения:



- ▲ — красный
- — синий
- △ — розовый
- — коричне-  
вый
- — жёлтый
- ⬡ — зелёный
- ◇ — голубой

# РЕБУСЫ

И 100 '3 я / / /  / / /

100 й / / / 40а / / /

С 3 ЖИ / / / ТЕ 100 / / /

7 Я / / /  К / / /





## «МОЗАИКА»

Раскрась согласно условным обозначениям:



ЧА, ЩА —  
голубой  
цвет;

ЧУ, ЩУ —  
жёлтый  
цвет;

ЖИ, ШИ —  
красный  
цвет.



## МИНУТКА КАЛЛИГРАФИИ

Ее

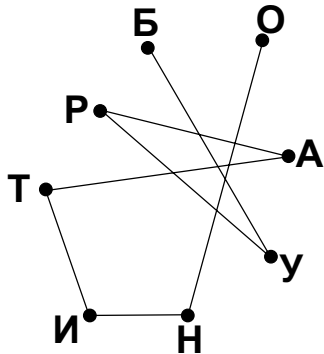
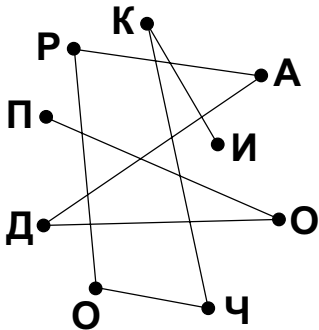
Евгений

Ева

Енот

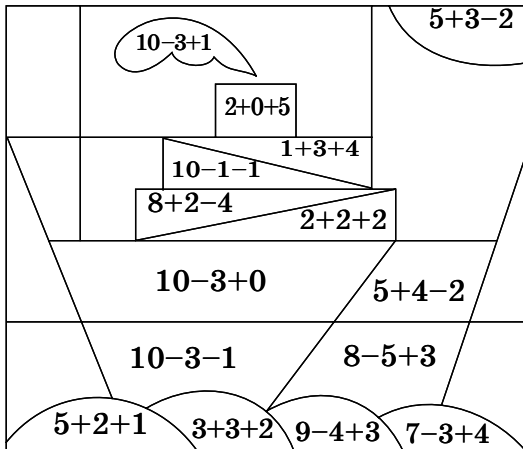
# РАЗГАДАЙ

Главное — найти начало, а потом только успевать читать!




# РЕШИ И РАСКРАСЬ

- 6 — жёлтый  
7 — зелёный  
8 — голубой



## РИСУНОК — СЛОВО

Впиши в клеточки буквы, с которых начинаются названия нарисованных предметов. Прочитай слова.



# РАЗГАДАЙ

Определи, кто из них что «сказал».



му-му

ку-ка-ре-ку


ме-ме

ку-ку



дж-дж

гав-гав



# ЗАНИМАТЕЛЬНАЯ МАТЕМАТИКА

Вспомни состав чисел 9 и 10. Вставь пропущенные числа.

9	7		5		1		8	
	+	+	+	+	+	+	+	+
		3		2		4		6

10	5	3		6		1		9	
	+	+	+	+	+	+	+	+	+
			2		8		4		7




## ШАРАДЫ

Я глубока и полноводна,  
И вся страна гордится мной.  
А впереди ты **И** прибавишь —  
И стану птицей я лесной.



Две ноты, две буквы,  
всё вместе — игра,  
В которую любит  
играть детвора.



С буквой **К**  
живу в лесу.  
С буквой **Ч**  
овец пасу.





## ЗАНИМАТЕЛЬНАЯ МАТЕМАТИКА

Раскрась яблок на 2 меньше, чем груш.  
Сколько яблок?

Решение:

$$\square \quad \square = \square \quad ( \text{ } )$$


Ответ:  $\square$

Сколько всего фруктов  
раскрашено?

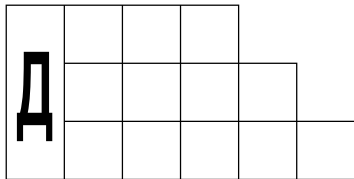
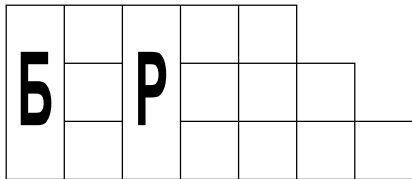
Решение:

$$\square \quad \square = \square \quad ( \text{ } )$$


Ответ:  $\square$



ИГРА «ПОДБЕРИ СЛОВА»

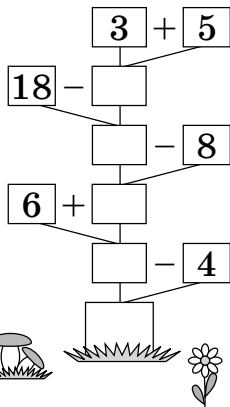
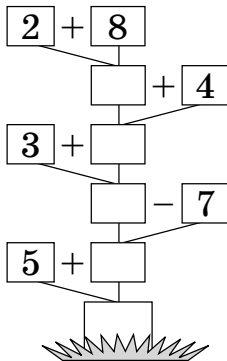
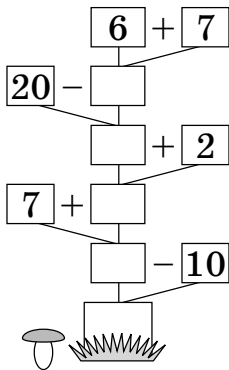


МИНУТКА КАЛЛИГРАФИИ



## «ЧИСЛОВЫЕ ДЕРЕВЦА»

Реши цепочки примеров. Узнай, какие числа «спрятались» в корнях деревьев.



## ЗАГАДКИ

Отгадай загадки, запиши отгадки.

Кто ни разу шага не сделал?

( \_\_\_\_\_ )

Зимой белый —  
Летом серый.

( \_\_\_\_\_ )

Хвост крючком,  
Нос пяточком.


( \_\_\_\_\_ )

Лежала под ёлками  
Подушечка с иголками.  
Лежала, лежала  
Да и побежала.

( \_\_\_\_\_ )


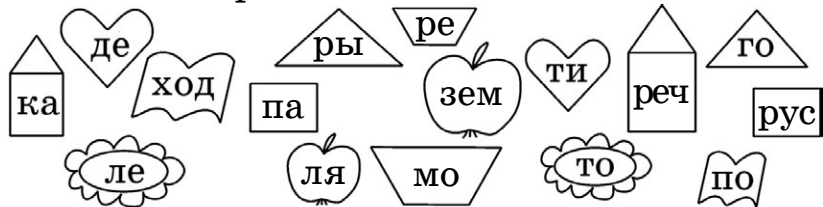
## «ВЕСЁЛЫЙ ХУДОЖНИК»

Нарисуй свой портрет и покажи с помощью стрелок, чем ты любишь заниматься в свободное время.




## ИГРА «СОБЕРИ СЛОВА»

Найди фигуры одинаковой формы. Сложи слова. Прочитай их.



# ЗАНИМАТЕЛЬНАЯ МАТЕМАТИКА

Реши задачу.




Решение:

$$\square \quad \square = \square$$

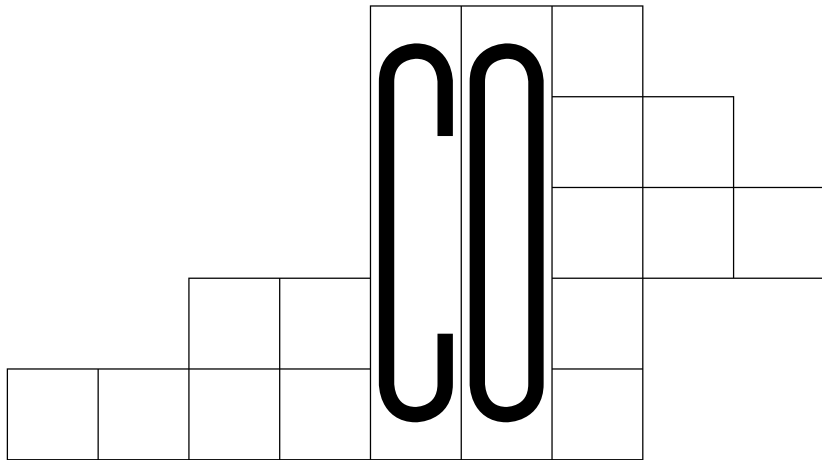
Ответ:

Вставь  
недостающее.



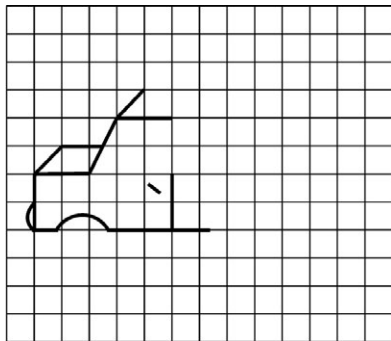
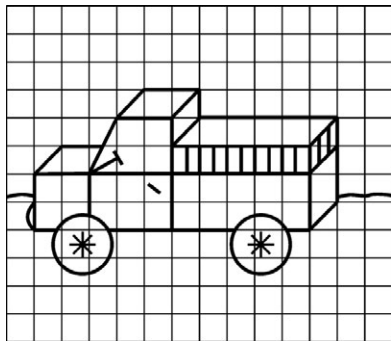


## ИГРА «ПОДБЕРИ СЛОВА»





# ДОРISУЙ ПО ОБРАЗЦУ



## ИГРА «ПОДБЕРИ СЛОВА»

Подбери слова, противоположные по значению. Разгадай ребус.

Левый — правый

Глубоко — 

Тихо — 

Мало — 

Быстро — 

Низко — 





## МИНУТКА КАЛЛИГРАФИИ

Яя

яв

ял

Ялта

Слова — анаграммы

т р ф у к ы

а м и л а н

# ЗАНИМАТЕЛЬНАЯ МАТЕМАТИКА

6	+		=	9
-		+		-
	-	3	=	
=		=		=
	+		=	8

	-	3	=	6
-		+		-
1	+		=	
=		=		=
	-	8	=	

## ТВОРЧЕСКАЯ РАБОТА

Вспомни сказку. Какой совет можно дать героям сказки?



A set of horizontal lines for writing, with two diagonal lines forming a narrow column on the right side.

## ЗАНИМАТЕЛЬНАЯ МАТЕМАТИКА

Реши задачу.

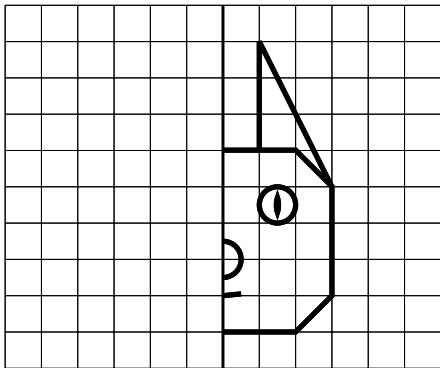
В саду 8 яблонь и 4 груши. Сколько всего плодовых деревьев в саду?

*Решение:*

$$\square \quad \square = \square$$

*Ответ:*  $\square$

Дорисуй и раскрась.



## ТВОРЧЕСКАЯ РАБОТА

Составь предложения из слов каждого ряда и запиши их.

1. В, поют, соловьи, роще.

\_\_\_\_\_

\_\_\_\_\_

\_\_\_\_\_

2. Тропинке, птенец, по, прыгал.

\_\_\_\_\_

\_\_\_\_\_

\_\_\_\_\_

3. Мы, на, летом, даче, жили.

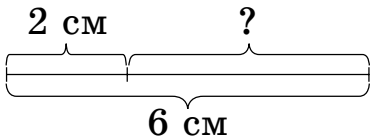
\_\_\_\_\_

\_\_\_\_\_

\_\_\_\_\_

# ЗАНИМАТЕЛЬНАЯ МАТЕМАТИКА

Реши задачу.

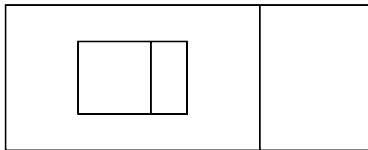


*Решение:*

$$\square \quad \square = \square \text{ см}$$

*Ответ:*  $\square$  см

Сколько  
четырёхугольников?

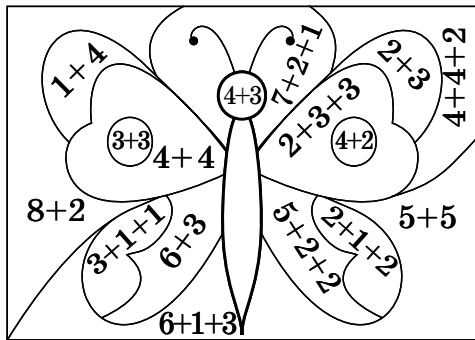


$\square$  четырёхугольников.



## РЕШИ И РАСКРАСЬ

- 6 — зелёный  
8 — оранжевый  
9 — красный  
5 — жёлтый  
7 — синий  
10 — голубой



## РИСУНОК — СЛОВО

Впиши в клеточки буквы, с которых начинаются названия нарисованных предметов.  
Прочитай слова.



## ТВОРЧЕСКАЯ РАБОТА

Подбери и запиши слова, противоположные по значению.

Зима —

Тепло —

Ночь —

Новый —

Тихий —

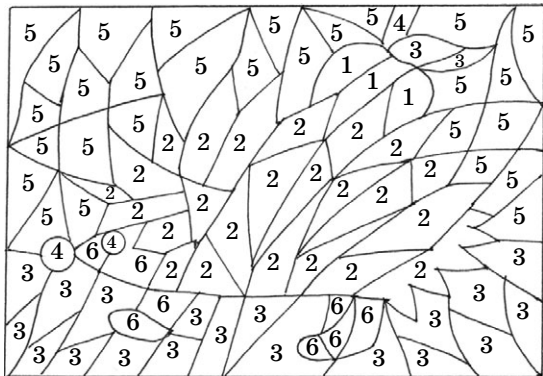
Длинный —

Быстрый —

## «МОЗАИКА»

Раскрась рисунок, используя обозначения:

- 1 — красный
- 2 — серый
- 3 — зелёный
- 4 — чёрный
- 5 — голубой
- 6 — оранжевый



## «КЛОУНЫ»

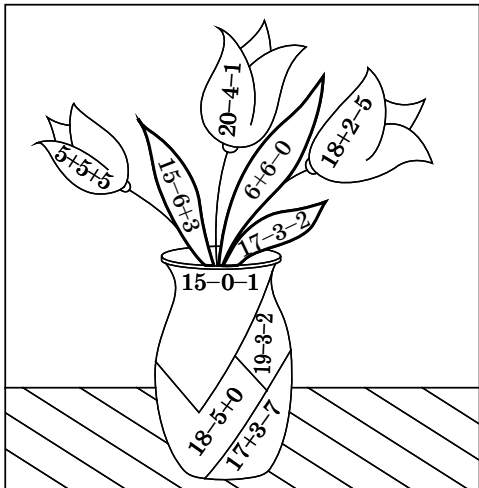
Раскрась костюм весёлого клоуна в красный цвет, грустного — в синий, сердитого — в чёрный, удивлённого — в зелёный.





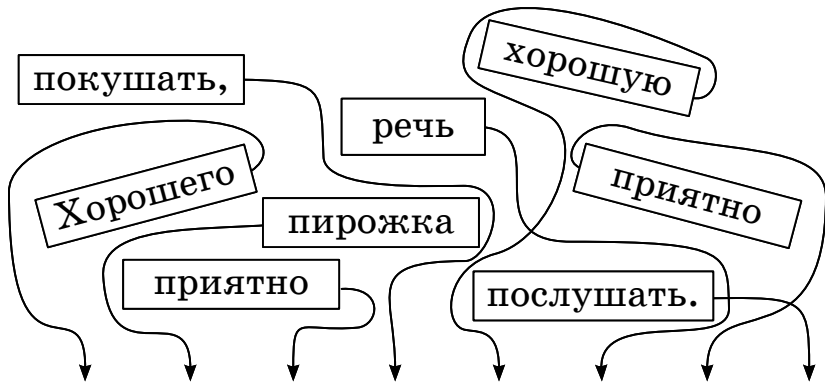
## РЕШИ И РАСКРАСЬ

- 12 — зелёный  
13 — синий  
14 — жёлтый  
15 — красный  
17 — голубой



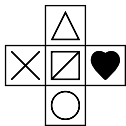

## ЗАНИМАТЕЛЬНАЯ СТРАНИЧКА

Расставь слова в нужном порядке и прочитай пословицу.



## «КОВРИК»

Найди на коврике три фрагмента. За-  
крась их.





## ОТВЕТЫ

- с. 10. Летом.  
с. 11. Неделя.  
с. 14. Дело мастера боится.  
с. 17. В здоровом теле  
здоровый дух.  
с. 27. 9 треугольников,  
13 треугольников.  
с. 28. 1. Зарядка. 2. Йод.  
3. Осанка. 4. Режим.  
5. Ухо. 6. Румянец.  
с. 37. Морковь, лук, кукуруза.  
с. 40. Любовь, чистота,  
природа, счастье.  
с. 47. Гвоздь, часы, машина,  
шишки.  
с. 53. Салат, хлеб, каша,  
молоко, печенье.  
с. 58. Осина, сосна, соска.  
с. 62. История, стой, стрижи,  
семья, волк, сорока,  
тесто, рыбац.  
с. 66. Буратино, подарочки.  
с. 68. Лампа, кино, монета.  
с. 71. Волга (иволга). Домино.  
Кабан, чабан.  
с. 75. Время. Заяц.  
Поросенок. Еж.  
с. 81. Вода.  
с. 82. Фрукты. Финиш.  
Футбол.  
с. 89. Масло. Волна. Школа.

9 785699 641147

ISBN 978-5-699-64114-7

# ✓ ВЕСЕЛЫЕ КАНИКУЛЫ

## Самостоятельные работы

- Занимательные задания
- Нестандартные задачи
- Кроссворды, ребусы
- Математические игры



А также  
в серии выходят  
комплекты

Переходим во 2-й класс

